

# Préparation pour l'examen de mathématique du vendredi 27 sept. (sections 1 à 4 de Tamtam)

Donnez à votre enfant des nombres avec des milliers tels que: 2 453

1. Écris les nombres que tu entends.

a)

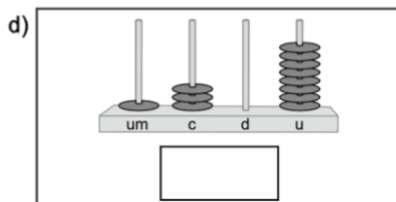
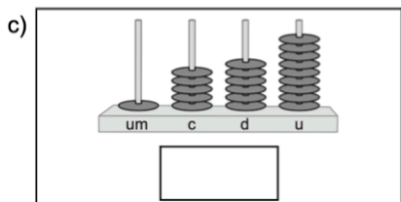
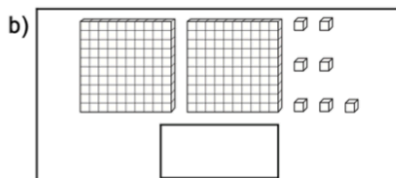
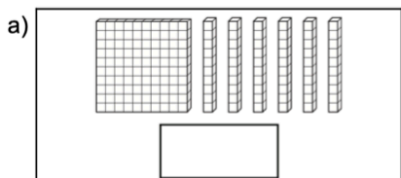
b)

c)

d)



2. Écris les nombres représentés.



3. Écris combien vaut le chiffre souligné.

a) 8 742

b) 3 289

4. Vrai ou faux ?

- a) Dans le nombre 1347, il y a 134 dizaines.
- b) Dans le nombre 354, il y a 35 centaines.
- c) Dans le nombre 11 894, il y a 11 unités de mille.

Vrai

Faux

☐
☐
☐
☐
☐
☐


5. **Décompose** les nombres selon la valeur de leurs chiffres.

a) 732

b) 12 783



6. **Compare** les nombres. **Écris** le symbole  $<$ ,  $>$  ou  $=$ . **Complète** ensuite la phrase.

a) 2 456  2 656 Il y a \_\_\_\_\_ centaines de plus dans \_\_\_\_\_.

b) 3 476  3 426 Il y a \_\_\_\_\_ dizaines de plus dans \_\_\_\_\_.



7. **Termine** les dallages en respectant les axes de réflexion.

